

Realiza la resistencia equivalente o total de los siguientes circuitos :

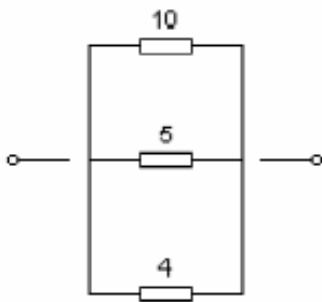
Esta tarea sería para el Jueves y Viernes dependiendo a qué clase pertenezcais y para el Lunes 30 de Marzo de la semana que viene:

Téneis para entregarla hasta final de semana, es decir , 3 de Abril. La subís a Classroom.

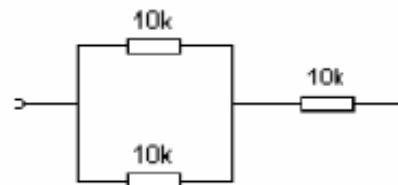
Consideraciones: DEBE HACERSE COMO MÍNIMO LOS TRES PRIMEROS.

No prestéis atención a la K que aparece en el segundo ejercicio, considerad que todas las resistencias vienen dadas en Ohmios (Ω)

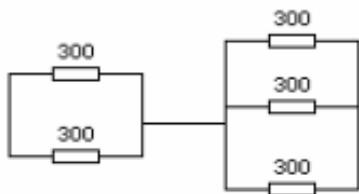
a)



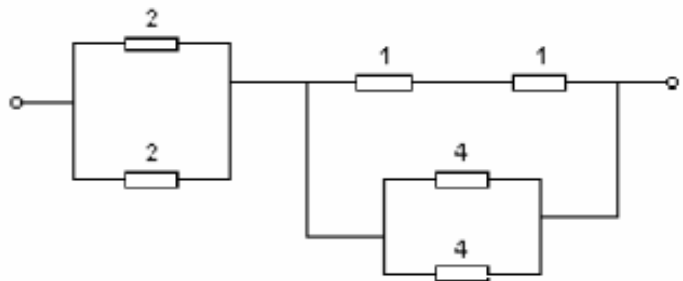
b)



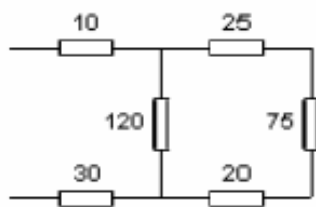
c)



d)



e)



f)

